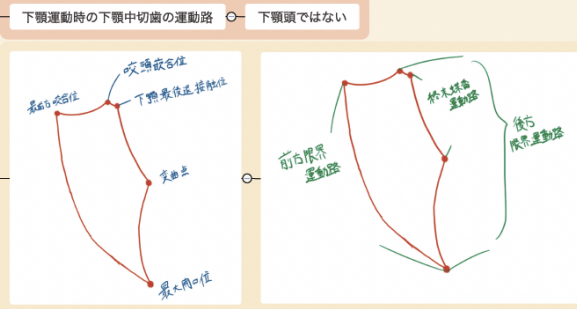


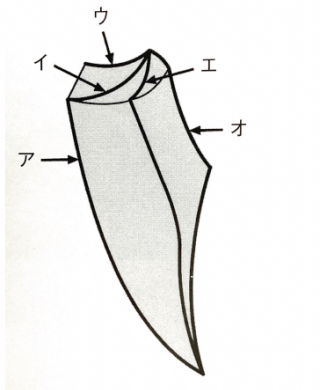
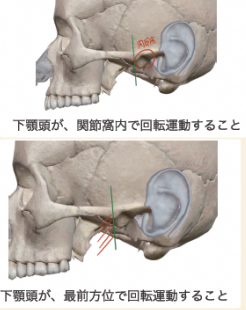
ポッセルトと咬合器の関連

ポッセルトの図形



語句

- 終末蝶番軸運動路 ○
- 前方限界運動路 ○



過去問(112)このポッセルト図は斜め上から俯瞰してみた図

ア=前方限界運動路  
オ=終末蝶番運動路  
問 右側方チェックバイト時に含まれるものはどれか。2つ選べ。

答え イとウ ○ **なぜ側方チェックバイトなのに「イ」が含まれるか**

実は、側方チェックバイトでも、矢状(側方)顎路角が求められる  
下顎を側方に動かした場合、平衡側の下顎等が「前下内方」に動く。ここでの矢状成分が「矢状側方顎路」。  
しかし、前方チェックバイトで求めた矢状(側方)顎路とは差がある。この差がフィッシャー角。