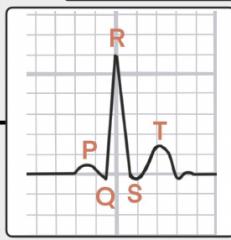


①P波・QRS波・T波があること



例えば

P波・QRS波・T波がないときは...

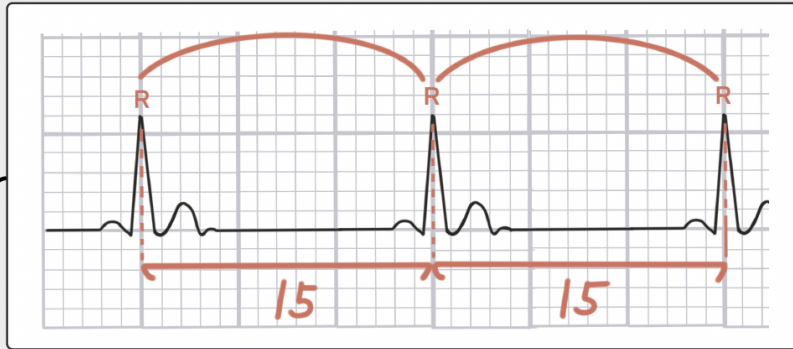
心室細動

P波がないときは...

心室性期外収縮

心房細動

②R-R間隔が一定



R-R感覚をみることで

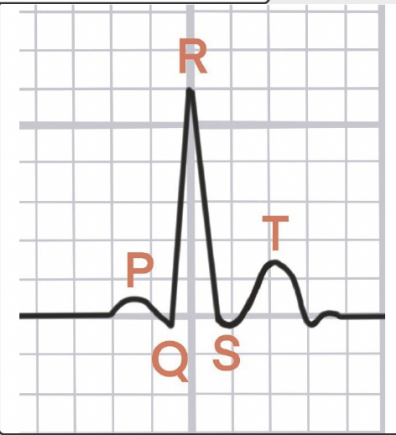
脈が一定かそうでないかが分かる

実際問題を解く時は、ざっと見た感じではなく

きちんとマスを数えて確認したほうがいい

パッと見、一定に見えたりする

③QRSの幅が0.1秒以下(3マス)



小さいマス(1mm)は0.04秒

3マスで0.12秒

④PQ幅が一定

PQ幅が広い、だんだん広くなる

→房室ブロック

④心拍数は60-100

なにもしていないのに100回以上or60回未満

「この心電図の一個間の幅、なんかおかしいな」と思うことが大事

1つ1つが広すぎる=徐脈

1つ1つが狭いな=頻脈